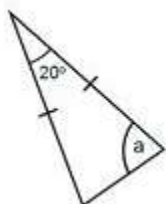


име и презиме _____ одд VIII-____ бр.во дневник _____

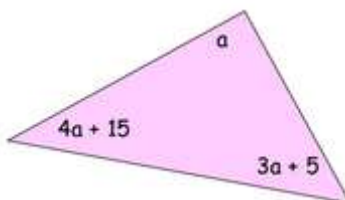
потпис од родител: _____ освоени поени: _____ оцена _____

0 – 30	31-50	51-74	75-90	91 – 100
Недоволен 1	Доволен 2	Добар 3	Мн.Добар 4	Одличен 5

1. Пресметај ги аглиите кои недостигаат:



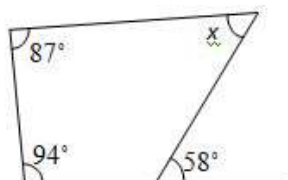
a= _____



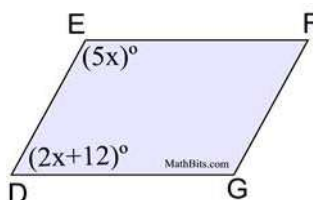
a= _____

10

2. Пресметај ги аглиите кои недостигаат:



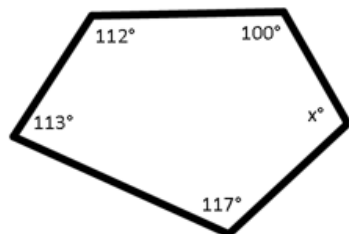
x= _____



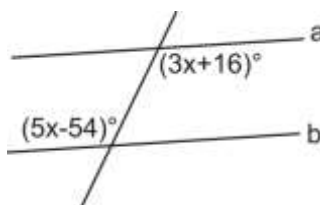
x= _____

10

3. Пресметај го аголот кој недостига:



x= _____



x= _____

10

4. Дополни ги тврдењата за да бидат точни:

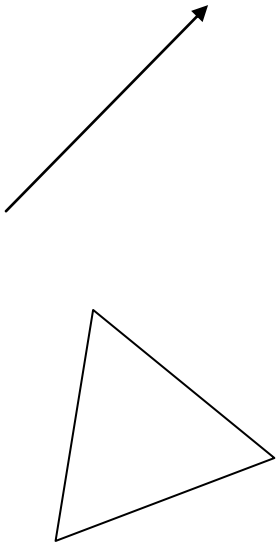
- а. Ромбот има _____ оски на симетрија
- б. Делтоидот има ротациона симетрија од ред _____.
- в. Дијагоналите во правоаголникот _____ под прав агол.
- г. Аглиите кои лежат на ист крак во трапез се _____.
- д. Во делтоид, едната дијагонала _____ другата.

10

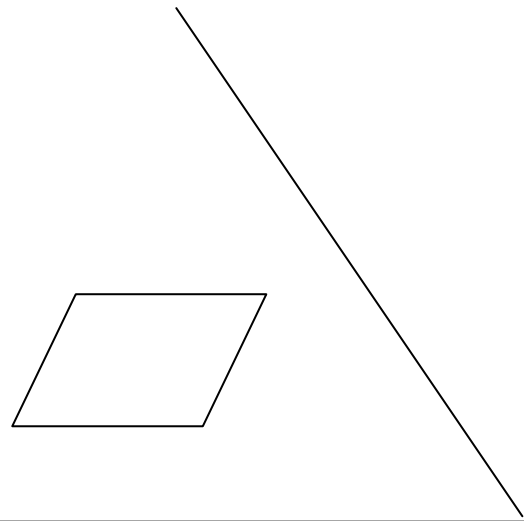
5. Нека една градина има форма на квадрат со страна 10 метри.
 Нацртај ја градината во размер 1:200
 и определи ја должината на дијагоналата на градината во реалноста.

10

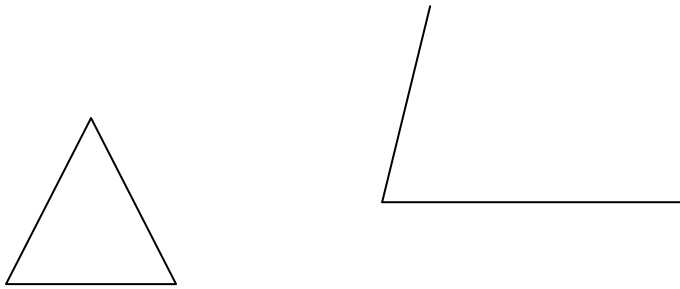
6. Изврши транслација за зададениот вектор:



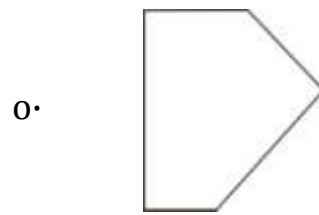
7. Изврши пресликување со осна симетрија:



9. Изврши ротација на фигурата зададена подолу во негативна насока, околу точката O:



9. Изврши зголемување за коефициент 2 на дадената фигура:



O•

O•

10. Нацртај мрежа на телото претставено на сликата ако димензиите се 2cm, 2cm, 4cm

