

Пресметај:
 $0,320\text{hl}+457\text{ml}=\text{_____}$

Пресметај:
 $3,8\text{m}-29\text{cm}=\text{_____}$

Пресметај:
 $45\text{dl}+0,4\text{l}=\text{_____}$

Пресметај:
 $4,5\text{kg}-300\text{g}=\text{_____}$

Пресметај:
 $5\text{kl}-24,56\text{dal}=\text{_____}$

Пресметај:
 $0,06\text{m}^2=\text{_____mm}^2$

Пресметај:
 $2720\text{cm}^2=\text{_____m}^2$

Пресметај:
 $45,9\text{da}=\text{_____ha}$

Пресметај:
 $3600\text{m}^2=\text{_____ha}$

Пресметај:
 $34,1\text{a}=\text{_____ha}$

Пресметај:
 $6\text{km}542\text{m}\cdot 3+103\text{km}565\text{m}:2=$

Пресметај:
 $12,5\text{dal}=___\text{m}^3$

Пресметај:
 $11,63\text{dm}\cdot 12-7\text{dam}5\text{m}6\text{dm}:9=$

Пресметај:
 $58\text{m}8\text{dm}\cdot 12-36\text{m}38\text{cm}:2+5\text{m}9\text{cm}=$

Пресметај:
 $5,343\text{ha}=___\text{m}^2$

Пресметај:
 $1,25\text{a}=___\text{dm}^2$

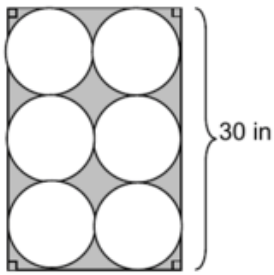
Пресметај:
 $4,5\text{dal}=___\text{dm}^3$

Пресметај:
 $3\text{da}6\text{a}=___\text{m}^2$

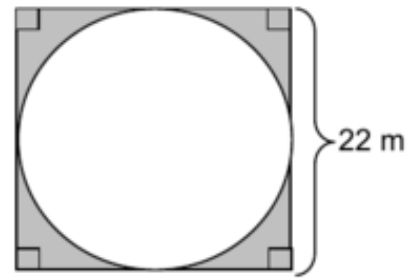
Пресметај:
 $235\text{cm}^3=___\text{cl}$

Пресметај:
 $9\text{km}^28\text{m}^2=___\text{m}^2$

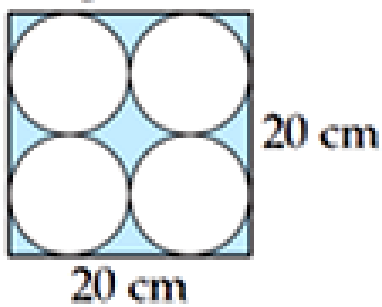
Пресметај плоштина на 2д формата:



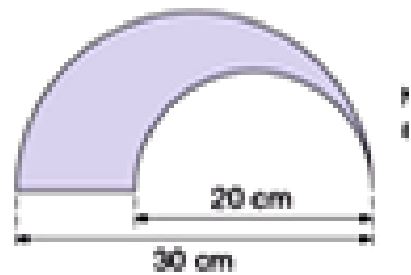
Пресметај плоштина на 2д формата:



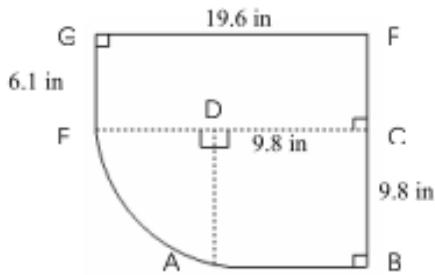
Пресметај плоштина на 2д формата:



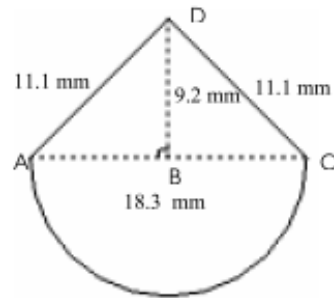
Пресметај плоштина на 2д формата:



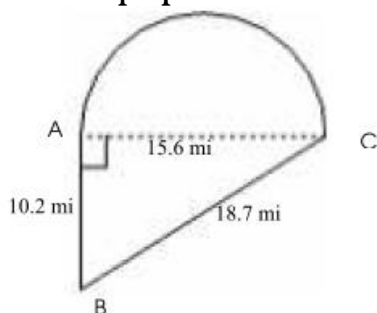
Пресметај плоштина на 2д формата:



Пресметај плоштина на 2д формата:



Пресметај плоштина на 2д формата:



Пресметај плоштина на 2д формата:

